

PRACTICAL MANUAL



MAHS-04

M.A.Home
Science:
1st
Semester



प्रश्न 1. निम्न परीक्षण की विधियों द्वारा किन्हीं चार तंतुओं का परीक्षण कीजिए:

अ) दहन परीक्षण

ब) सूक्ष्मदर्शी परीक्षण

अ) दहन परीक्षण : किन्हीं चार वस्त्र तंतुओं की दहन परीक्षण द्वारा पहचान कीजिए;

तंतु का नाम (वस्त्र सैम्पल)	जलाने पर प्रतिक्रिया	गन्ध	अवशेष
सैम्पल न० 1			
यहाँ सैम्पल चिपकाएँ			
वस्त्र तंतु का नाम :			

सैम्पल न०2

यहाँ सैम्पल चिपकाएँ

वस्त्र तंतु का नाम :

सैम्पल न०3

यहाँ सैम्पल चिपकाएँ

वस्त्र तंतु का नाम :

सैम्पल न०4

यहाँ सैम्पल चिपकाएँ

वस्त्र तंतु का नाम :

प्रश्न 2. निम्नलिखित बुनाइयों के सैम्पल बनाकर यथास्थान लगाकर उनकी प्रमुख विशेषताएँ लिखिए:

अ) सादी बुनाई

आ) बास्केट बुनाई

इ) रिब बुनाई


ई) ट्विल बुनाई

उ) सैटिन बुनाई

उत्तर : आवश्यक सामग्री :


- i. ऊन
- ii. सैम्पल बनाने हेतु कार्ड बोर्ड
- iii. बड़ी सुई

क्रम संख्या	सैम्पल	विशेषताएँ
1.		




2.

--	--	--




3.

--	--	--



4.

--	--	--



5.

--	--	--

